

100分	99-95分	95~90分	89~80分	79~70分	70分以下	得分	家長簽名
人	人	人	人	人	人		

一、選擇題 (每題 2 分, 共 14 分)

- () $5+5+5$ 用乘法算式可以怎麼記? ① 5×2 ② 3×3 ③ 5×3 。
- () 2×6 比 2×4 多幾個? ① 多 2 個 ② 多 2 個 ③ 多 4。
- () $4 \times 5 = 20$, 算式中 的 被 乘 數 是 ① 4 ② 5 ③ 20。
- () 一瓶養樂多倒進杯子裡, 杯子裡的養樂多和原本那瓶瓶子的養樂多, 哪一個比較多? ① 瓶子 ② 杯子 ③ 一樣多。
- () 小米和琪的體重一樣重, 琪比小威重, 小威和小米誰比較重? ① 小威 ② 小米 ③ 一樣重。
- () 鐘面上分成 12 大格, 分針在鐘面上走 1 大格, 是經過幾分? ① 1 分 ② 5 分 ③ 10 分
- () 時針走 1 圈是 12 大格, 也就是 ① 12 分鐘 ② 12 小時 ③ 1 小時。

二、填入 >、< 或 = (每格 2 分, 共 12 分)

- 5 的 9 倍 () 5×7
- 3 的 7 倍 () 10×7
- $10+10+10$ () 10 的 4 倍
- 5×2 () 2×5
- 4×1 () $1+1+1+1+1+1$
- 4 的 8 倍 () 42


三、填填看 (1-4 題每格 1 分, 5-10 題每格 2 分, 共 46 分)

- 現在是下午 5 時 35 分, 再過 1 小時就要吃晚餐, 吃晚餐的時間是下午 () 時 () 分。
- 現在是下午 1 點, 佑佑在 2 小時以前放學, 佑佑放學時間是上午 () 點。佑佑 1 小時以後吃點心, 佑佑下午 () 點在吃點心。
- 媽媽從下午 3 點半開始打掃

到 5 點半, 共花了 () 小時。


- 4 的 3 倍比 4 的 2 倍多 ()。
- 幫他們找到自己的卡片。在 () 中填入 勺、夕、口

我的卡片比小兔的小。




小熊 ()

我的卡片比小虎的大。




小虎 ()

我的卡片比小虎的大。




小兔 ()


勺




夕




口




6. 由小排到大, 在 () 中填入 甲、乙、丙。



甲

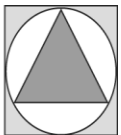


乙



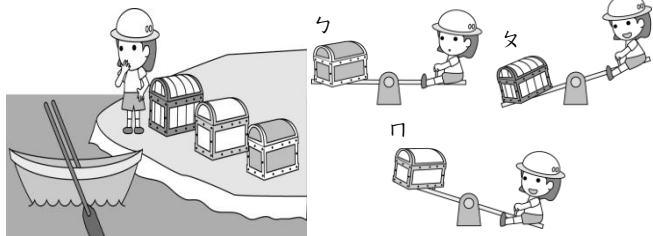
丙


→




() < () < ()

7. 小船每次最多只能載和露比一樣重的寶箱過河, 下面哪些寶箱可以安全渡河? 在 () 裡打勾






()



()



()

- 1 隻熊和 () 個 () 一樣重。
- 2 隻豬和 () 個 () 一樣重。

9. 填出時鐘上的時刻。



□ : □



□ : □



□ : □

10. 下面哪些鐘面的時刻在6時30分
和8時30分之間？在()中
打✓。

①



()

②



()

③



()

④



()

⑤



()

⑥



()

四、把做法和答案記下來(每題4分,共28分)

1. 紅色彩帶長16公分,黃色彩帶長15公分,這兩條彩帶加起來比藍色彩帶長7公分,藍色彩帶有多長?

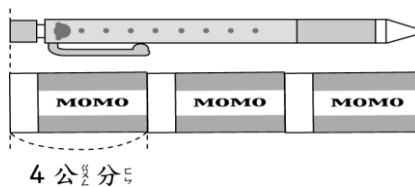
2. 大哥有57元,二姐比大哥少23元,兩人合起來共有幾元?

3. 一杯奶昔19元,雅琳買了2杯,付50元給老闆,可以找回多少元?

4. 大明有33張遊戲卡,丁丁有24張,真真有18張。丁丁和真真的遊戲卡合起來比大明多幾張?

5. 文康有27元,弟弟有25元,兩人想合買一個玩具,但還不夠16元,這個玩具要多多少元?

6. 一支原子筆的長度是一個橡皮擦的3倍,橡皮擦長4公分,原子筆有幾公分長?



7. 一副手套有10根指頭,下圖中共有幾根指頭?寫出算式做做看。

